

REPUBLIQUE DU CAMEROUN
Paix – Travail – Patrie

MINISTRE DES ENSEIGNEMENTS SECONDAIRES

INSPECTION GENERALE DES ENSEIGNEMENTS

INSPECTION DE PEDAGOGIE CHARGEE DES SCIENCES HUMAINES

SECTION HISTOIRE GEOGRAPHIE ECONOMICS

E-mail : ipshminesec@yahoo.fr

REPUBLIC OF CAMEROON
Peace – Work – Fatherland

MINISTRY OF SECONDARY EDUCATION

INSPECTORATE GENERAL OF EDUCATION

INSPECTORATE OF PEDAGOGY IN CHARGE OF SOCIAL SCIENCES

HISTORY GEOGRAPHY ECONOMICS SECTION

E-mail : ipshminesec@yahoo.fr

EPREUVE ZERO DE GEOGRAPHIE BEPC

(Durée : 2h Coef. : 2)

PARTIE A : LA VERIFICATION DES RESSOURCES (09 pts)

A- La vérification des savoirs. (04pts)

a- Définitions. (02 pts)

- Mangrove.
- Epizootie.

b- Questions de cours. (02 pts)

- 1- Donne deux conséquences sociales de la non scolarisation de la jeune fille au Cameroun. (1pt)
- 2- Cite deux manifestations économiques de la mondialisation en Afrique. (1pt)

B- La vérification des savoirs faire. (05pts)

- 1- Sur le fond de carte du Cameroun, localise le plateau sud camerounais et les hautes terres de l'ouest. (2pts)
- 2- a) Relie à l'aide des flèches chacune des ethnies au grand groupe de population auquel elle appartient. (0,5×3=1,5pts)

ETHNIES	GROUPE DE POPULATION
• Fang-béti	• Paléo- soudanais
• Mandara	• Néo-soudanais
• Guiziga	• Bantous

b) A partir du tableau ci-après, représente à l'aide d'un graphique en bâton, la part de la population active par secteurs économiques au Cameroun. (0,5×3=1,5pts)

SECTEUR D'ACTIVITÉ	POPULATION ACTIVE EN %
Industrie	22
Elevage	45
Agriculture	49

PARTIE B : LA VERIFICATION DE L'AGIR COMPETENT OU DES COMPETENCES (09 pts)

Situation problème :

Des pluies diluviennes ont provoqué la destruction des maisons construites sur la pente d'une colline de votre quartier. Il t'est demandé de sensibiliser les populations sur les risques courus dans l'occupation des zones à risque.


Supports:

Document 1 : les catastrophes naturelles.

Le Cameroun connaît des effondrements et des coulées de boue, des éboulements et de dramatiques glissements de terrain. Ces mouvements de la terre sont provoqués par le ruissellement de l'eau après des pluies torrentielles. Ils prennent de l'ampleur sur les pentes des hauts reliefs... Les glissements de terrain et coulées de boue sont aggravés par les transformations récente du paysage : la déforestation, la mise en culture de nouvelles parcelles et la construction d'habitations sur les versants des collines et des montagnes autrefois inoccupés.

Botnem et al, Planète Cameroun, Géographie 6^e, Edicef, 2018, p.91.

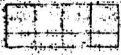
Document 2 : Eboulement de terrain à Nougache-Bafoussam.




<https://www.journalducameroun.com/wp-content/uploads/2019/10/Eboulement-780x440.jpg>

LES RÉGIONS GÉOGRAPHIQUES DU CAMEROUN

légende

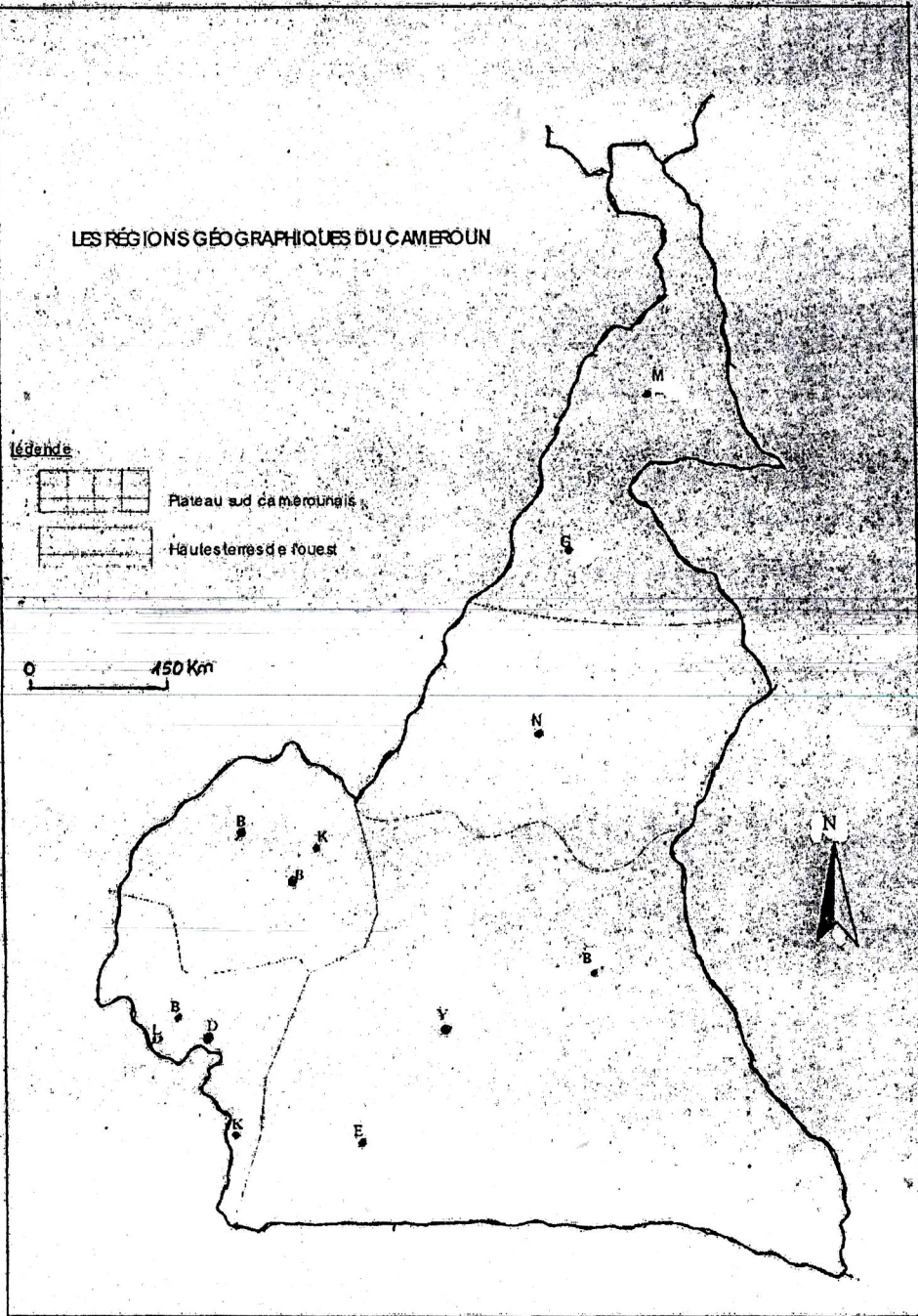


Plateau sud camerounais



Hautes terres de l'ouest

0 150 Km



Document 3 : Une construction à Yaoundé.




Photo Ngnamsi, 18 01 2018.

Consigne : Effectue les tâches suivantes

- 1- Présente le problème posé dans la situation évoquée ci-dessus.
- 2- A partir des documents, relève deux types de catastrophes naturelles observées au Cameroun.
- 3- Propose deux solutions pour sensibiliser les populations à ne pas occuper les zones à risques.